

Максимальная оценка за работу – 54 балла.

42 5

Задание 1

15 Укажите пропущенный в ряду год заключения договора Руси с другим государством.

907, 911, 944, ..., 1043

1. 947
2. 966
3. 971
4. 1013
5. 1036

Ответ:

Задание 2

35 Выберите термины, которые относятся к тому же виду искусства, что и представленный на иллюстрации предмет.



1. Чернь
2. Зернь
3. Закомары
4. Бердыш
5. Скать
6. Гобелен

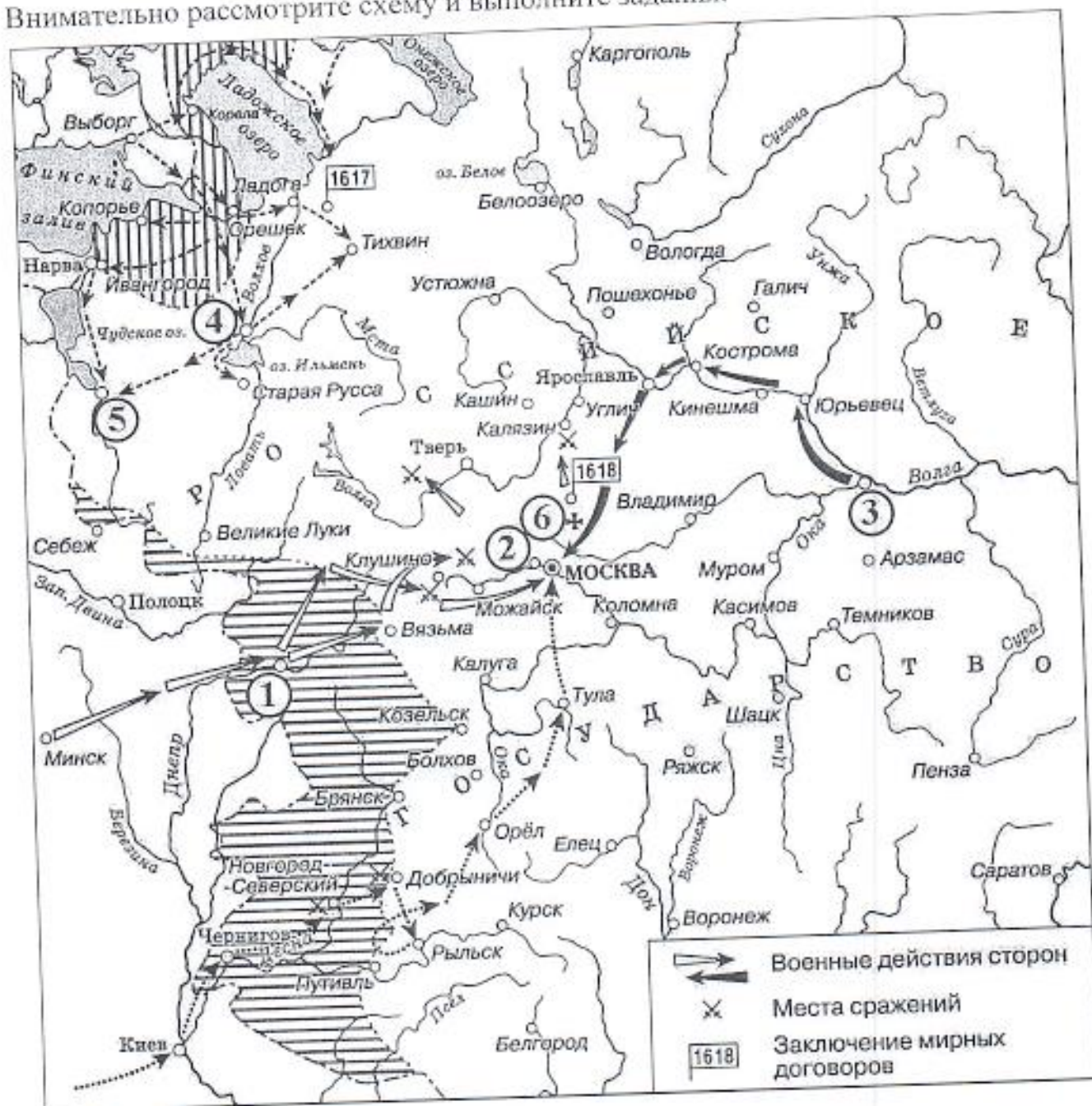
Ответ:

Задание 3

35

Задания 4-6

Внимательно рассмотрите схему и выполните задания.



4. Выберите верные утверждения.

1. Во время событий, обозначенных на схеме, шведскими войсками был захвачен город Галич.
2. Цифрой 3 на схеме обозначен город, где было сформировано Второе народное ополчение.
3. Стрелками на схеме обозначен поход Ивана Болотникова на Москву.
4. Современником событий, которым посвящена схема, был Сигизмунд III Ваза.
5. События, которые отражены на схеме, закончились подписанием Ям-Запольского мира.



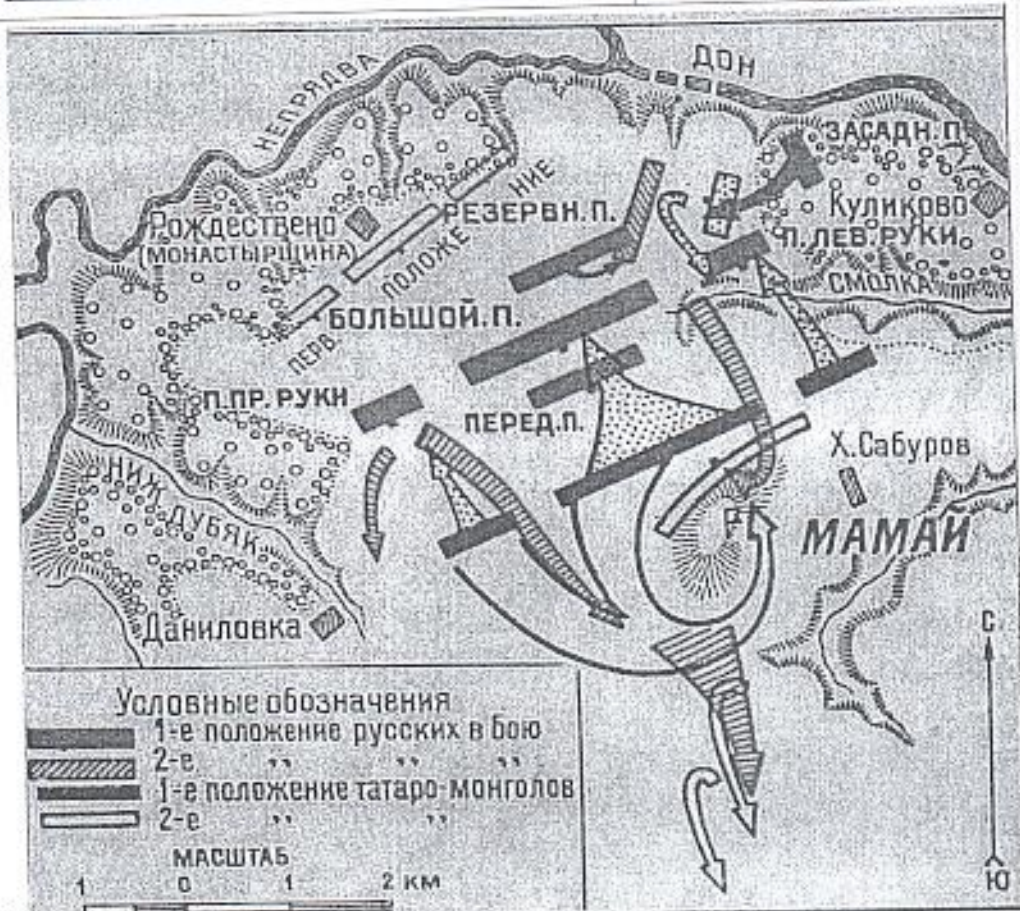
3



4



5



6

Минин; сей случаю чина чреды своея, бысть начальник в то время судных дел во братца своей, рекше посадских людей в Нижнем Новгороде.


Б. И сыскано в Розряде. В боярской книге написано: князю Григорью княж Петрову сыну Борятинскому помесной оклад 400 чети, денег из чети 6 рублёв. А у выписки князь Григорей Борятинский сказал. При царе Василье послан отец сво в Колугу приводить колужан всяких людей после ростриги х крестному целованью, а он был с отцом. И как колужане заворовали, царю Василью изменили, а пришол в Колугу Ивашка Болотников и отца ево велел, повеса за ноги, рострелять ис пищалей, а ево де, князя Григорья, велел посадить в тюрьму.

В. Димитрий, возвратившись из Путивля, почёл за лучшее выступить в поле и дать сражение, дабы видели его продвижение вперёд, ибо страна так велика, что не везде слышали об его завоеваниях. Сверх того он довольно был уверен, что жители завоёванных им местностей будут некоторое время держать его сторону, ибо они были ожесточены против приверженцев Бориса, поэтому, собрав всё войско, он двинулся и стал в трёх милях от московского лагеря, у Добрынич, и здесь его воины, уверенные в победе, бражничали, и 20 января ночью снялись с лагеря всем войском, среди них был сам Димитрий, князь Василий Масальский и дьяк Богдан Сутунов, перебежавший к Димитрию, также все польские паны и дворяне, всегда находившиеся при нём.

Г. Пришли к царю Борису из Литвы великие послы Лев Сапега с товарищами [просить] о мирном постановлении. Царь же Борис им воздал великую честь, и ездили на переговоры многое время, и едва условились о мирном договоре, и взяли перемирие на двадцать лет. После же заключения мира [послы] были у стола государева, и государь их пожаловал своим государевым великим жалованием и отпустил их к Жижиманту королю польскому.

Д. Архиепископ же Феодорит и боярин Фёдор Иванович Шереметев и все люди пошли в соборную церковь Пречистой Богородицы и служили молебны, и взяли честные кресты и местный чудотворный образ Пречистой Богородицы Фёдоровской и многие иконы, и пошли в Ипатцкий монастырь и служили молебны у Живоначальной Троицы, и пришли к нему, государю, и к матери его, великой государыне старице Марфе Ивановне, и пали все на землю: не только что плакали, но и вопль был великий. И молили его, государя, чтобы шёл на свой царский престол, на Московское государство.

Е. Люди же Московского государства, видя такой гнев Божий на себя, единодушно все замыслили, как бы против него, окаянного, сотворить [заговор], чтобы православная вера до конца разорена не была. Против него же. Расстриги, больше всех выступал тот же князь с братьями. За него [Расстригу] стояли советники его, Пётр Басманов с немцами и с стрельцами московскими. Они же, призвав Бога в помощь, пошли на врага. Он же [Расстрига], видя то, выбросился из палаты в окно, стрельцы же его подхватили и привели опять в палату, и бились за него. Начали же стрельцы боярам говорить: «Идём к



56
 Ответ:

Задание 8

Определите пропущенные в таблице отрывки из мирных договоров России с иностранными державами, их названия, годы, когда они были заключены, и события из всеобщей истории, произошедшие в том же десятилетии.

Обратите внимание на то, что среди предлагаемых вставок есть лишние.

Отрывок из мирного договора	Мирный договор	Год	Событие из всемирной истории (в то же десятилетие)
А	Б	1721	Отречение Филиппа V Испанского от престола
Когда же Воеводы с обеих сторон назначат рубежи, как они были в старину, то замок Корельский (Кексгольмский) со всеми землями, которая ему подлежали в то время, когда их получил наш	В	Г	Издание Нантского эдикта

<p>совершенное непрекословное вечное владение и собственность всей войне, чрез его царского величества оружия от короны свейской завоёванные провинции: Лифляндию, Эстляндию, Ингерманландию... с городами и крепостями... и всеми прочими к упомянутым провинциям надлежащими городами, крепостями, гаванями, местами, дистриктами, берегами...</p>			
<p>3. Такжеже уговорили и постановили есмы, что всем городам и землям, в прошедшею войну от Короны Польской и Великаго Княжесва Литовскаго завоёванным, то есть Смоленск с городами и с уездами, которые от сего краю, от Витебскаго, от Полоцкаго и от Лютинскаго уездов к Смоленску належат, Дорогобужу, Белой, Красному с своими местами и с уездами и принадлежностями, как оныя обретаются до сего времени, по перемирному договору, быть в стороне Их Царскаго Величества, а с другаго краю Рославлю и где суть Северские городы, Чернигову, Стародубу, Новугородску-Северскому, Почепу и иным, также и всей Малой России сея стороны Днепра городом Нежину, Переяславлю, Батурину, Полтаве, Переволочне и всем, того Малороссийскаго краю, городам и землям и местам, какими ни есть прозвищи и урочищи названные, со всеми своими уездами, сёлами и деревнями и в них живущими всяких чинов людьми и принадлежностями, как они по се</p>	<p>Тявзинский мир</p>	<p>1582</p>	<p>Славная революция в Англии</p>

Задание 9

Установите соответствие между фрагментами исторических источников и их краткими характеристиками: к каждому фрагменту, обозначенному буквой, подберите по три соответствующие характеристики.

Обратите внимание на то, что среди приведённых характеристик есть лишние.

А. И видя царь, что в денгах почало быть воровство великое и много кровопролития учинилося, а те медные денги год от году подешевели, сперва ходили рубль против рубля, а потом почали ходить по 2 и по 3 и по 4... медных денег за серебряной рубль, а с торговых людей и с крестьян десятую и пятую денгу имали в казну серебряными денгами, а ратным людем давали жалованье медными денгами, против того как преж сего давано серебряными, и в государстве серебряными денгами учала быть скудость, а на медные было всё дорого и многие помирали з голоду: и умысля царь, чтоб ещё чего меж людми о денгах не учинилося, велел те медные денги отставить и не торговать, и приносить те медные денги в свою царскую казну, на Москве и в городех, и за рубль медных денег положено было платить серебряными по 10 денег. А кто медных денег не похочет давать в царскую казну, и тем денги велено сливать и переделывать в котлы и во что кто хочет; а кто учинит те медные денги держати денгами и им учинен был заказ под смертною казнию, потому чтоб тех денег не посеребривали и не белили и с серебряными денгами не мешали. Да от того ж смутного времени, как приходили воровские люди к царю и учинилася смута и кроворозлитие, царица от великого страху испужався лежала в болезни болши году.

Б. Случаем этим воспользовался народ, чтобы подать его царскому величеству некие прошения по поводу невыносимо громадных податей и налогов, которыми в течение нескольких лет он был обременён, вследствие чего народ с жёнами и детьми впал в разорение. Бояре, окружавшие его царское величество, приняли эти прошения и не только разорвали их на клочки, но ещё бросили эти клочки в лицо просителям, над которыми издевались и которых холопы или рабы их жестоко избили, и весьма многих посадили в заключение. Народ был взбешён против бояр и по окончании процессии толпою явился на царский двор... и затем, после обеда, и народ, и стрельцы ворвались в дом Бориса Ивановича Морозова, главного после его царского величества правителя всей России, который прошлою зимою женился на сестре ныне здравствующей царицы. Дом этот был ими в конец ограблен. После этого, разделив между собою остальную добычу, они приступили было к разрушению самого дома Морозова. Тогда его царское величество прислал им сказать, что дом этот принадлежит ему. Услыхав эту, бунтовщики немедленно покинули его, умертвив трёх самых главных служителей. Из дома Морозова толпа бешено повалила к дому Назара Ивановича Чистова, которого дом они тоже совсем разграбили... так как сам канцлер был болен и находился в это время в бане. Когда он из бани возвращался домой, бунтовщики, встретив его, избили

9. В тексте упоминаются цели начавшегося восстания.
10. В тексте описывается установленное наказание за неподчинение царскому указу.
11. В тексте упоминается необходимость дополнительного расширения торговли для восстановления экономики после смуты.
12. В тексте описываются методы изготовления фальшивых денежных знаков.

Ответ:

А			Б			В		
3	10	12	1	4	6	2	8	9

18

Максимальная оценка за работу – 40 баллов.

Задание 1


15 Выберите верные утверждения.

1. Термин «Средние века» впервые появился в сочинениях Гомера.
2. Легенда о «суассонской чаше» связана с именем короля франков Хлодвига.
3. В результате реформ Солона в Афинах было запрещено обращать граждан в рабство за долги.
4. По приказу египетского фараона Рамзеса II началось строительство крупнейшей египетской пирамиды.
5. На территории современной России археологами были найдены изделия из бивней мамонтов.
6. Последним правителем Западной Римской империи был Карл Мартелл.
7. В середине V в н. э. войсками Ганнибала Барки был разрушен Карфаген.
8. В битве на Каталаунских полях войска под командованием Аэция разбили гуннские племена под началом Атиллы.

58 Ответ: 2, 3, 5, 6, 8

Задание 2

Установите последовательность создания представленных на иллюстрациях памятников архитектуры в хронологическом порядке от раннего (1) к позднему (5).





Ответ: 3, 4, 5, 4

48

Задание 3

Установите соответствие между историческими деятелями и связанными с ними событиями.

1)	Ахиллес	А)	составление древнейших из известных исторической науке письменных законов для Афин.
2)	Драконт	Б)	битва в Фермопильском ущелье
3)	Мильтиад	В)	Троянская война
4)	Леонид	Г)	создание статуи «Дискобол» («Метатель диска»)
5)	Мирон	Д)	создание научного трактата «История»
6)	Геродот	Е)	разгром персидского войска при Марафоне

Ответ:

1	2	3	4	5	6
В	А	Б	Е	Г	Д

Задания 4-6

4. Внимательно рассмотрите схему и выполните предложенные задания.



Выберите имя отца исторического деятеля, в период правления которого государство занимало территории, обведённые коричневой линией.

1. Александр Македонский
2. Марк Аврелий
3. Птолемей
4. Хаммурапи
5. Филипп II
6. Аристотель

Ответ: 5

5. Установите соответствие между цифрами и названиями государств, образовавшихся после распада единой державы. Обратите внимание на то, что среди приведённых названий государств присутствуют лишние.

1. Урарту
2. Египетское царство
3. Македонское царство
4. Карфаген
5. Сирийское царство
6. Персидская империя

Ответ: —

45


6. Выберите верные утверждения.

1. На схеме обозначен город, в котором, по легенде, началось строительство одноимённой башни до небес.
2. В границах схемы присутствуют некоторые территории, входящие в состав современной России.
3. На схеме указаны названия древних славянских племён.
4. Согласно схеме, между Средиземным и Красным морями существовал пролив.
5. На схеме обозначен район Междуречья.
6. На схеме обозначен город, в котором располагалось одно из чудес света – гигантская статуя бога солнца Гелиоса.
7. Распад государства, обозначенного на схеме, произошёл до объединения Верхнего и Нижнего Египта.
8. На схеме обозначен город-государство, известный своими демократическими традициями.
9. Современником единого государства, обозначенного на схеме границей, был Сенека.
10. На схеме обозначен город, основанный греческими колонистами.

Ответ: 1, 4, 5, 10

Задания 7-10

7. Выберите изображения, относящиеся к истории Древнего Рима.






5.



6.



7.



8.

30
10
Ответ: 1, 2, 3, 4, 8

8. Выберите изображение, связанное с историей России.

Ответ: 6

9. Одному из событий, изображённому на картине выше, посвящено крылатое выражение «И ты, Брут?», означающее разочарование в близком человеке и предательство. Выберите изображение, связанное с этим выражением.

Ответ: 1

10. По легенде, этот правитель представлял себя великим актёром, поэтом и даже спортсменом. Его правление вошло в историю как период самодурства, беззакония и жестокости. По преданию, он даже уничтожил столицу собственного государства ради очередного зрелища и фона для собственного выступления. Выберите картину, которая связана с правлением этого исторического деятеля.

Ответ: 4

Задание 11

Прочитайте фрагмент текста и ответьте на вопросы.

Для последнего приезда Карла были и другие причины. Дело в том, что римляне, которые подвергли папу Льва большому насилию, принудили его молить короля о защите. Поэтому, отправившись в Рим, чтобы восстановить положение дел в церкви, пришедшее в полный беспорядок, он задержался там на всю зиму. Именно тогда он принял имя императора и Августа, чего вначале совершенно не желал и утверждал, что если бы знал заранее о замысле папы, то в тот день не пошёл бы в церковь, несмотря на то, что это был один из главных праздников. И с великим терпением он переносил зависть римских императоров, негодовавших на то, что он принял это звание. Их упорство Карл победил своим великодушием, которым он, несомненно, их превосходил, посылая к ним частые посольства и в письмах называя их братьями.

В конце жизни, когда его тяготили болезнь и старость, Карл призвал к себе Людовика, короля Аквитании, единственного из сыновей Хильдегарды, оставшегося в живых. Собрав надлежащим образом со всего королевства знатнейших франков, Карл при всеобщем согласии поставил сына соправителем всего королевства и наследником императорского титула. Возложив на его голову корону, Карл приказал именовать Людовика императором и Августом. Это решение с одобрением было поддержано всеми присутствующими, ибо казалось, что оно было вдохновлено свыше на благо всего государства. И это деяние приумножило авторитет Карла [дома] и внушило огромный страх чужеземным народам.

11.1. С какой целью, согласно тексту, Карл прибыл в Рим?

1. Карл планировал переждать в Риме зиму, прежде чем продолжит свой поход.
2. Карл стремился уравнивать свой статус с римскими императорами, дабы по праву общаться с ними как с братьями.
3. Целью поездки Карла в Рим была защита Папы Римского от творимых беззаконий.
4. Поездка состоялась ради коронации сына Людовика.
5. Карл посетил Рим ради восстановления разрушенных церквей.

Ответ: 5, 3

11.2. Выберите верные утверждения:

1. Согласно тексту, у Карла не было сыновей, кроме Людовика.
2. Согласно тексту, Карл изначально отказывался от императорской короны.
3. В тексте упоминаются правители Византии.

4. В тексте упоминается не менее двух титулов, названия которых восходят к Римской империи.
5. После смерти упомянутого в тексте императора прервалась правящая династия.
6. После коронации Людовика Карл отрёкся от престола.

Ответ: 4, 6

11.3. Выберите суждение, о верности которого можно безусловно говорить на основе текста.

1. Все события, описанные в тексте, происходили зимой.
2. Внешняя политика Карла не ограничивалась только военными походами, но также подразумевала активные дипломатические связи с другими правителями.
3. Все сыновья Хильдегарды, кроме Людовика, погибли в военных походах.
4. Часть событий, описанных в тексте, произошла в день празднования Пасхи.
5. Передача императорской короны требовала обязательного утверждения франкской знатью и церковью.

Ответ: 4.